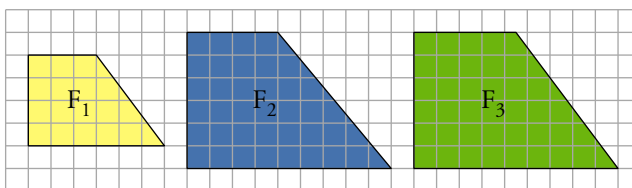


PÁGINA 180

PRACTICA

Figuras semejantes

1 ■■■ ¿Cuáles de estas figuras son semejantes? ¿Cuál es la razón de semejanza?



F_1 es semejante a F_3 . La razón de semejanza es $\frac{3}{2}$.

2 ■■■ a) ¿Son semejantes los triángulos interior y exterior?



b) ¿Cuántas unidades medirán los catetos de un triángulo semejante al menor cuya razón de semejanza sea 2,5?

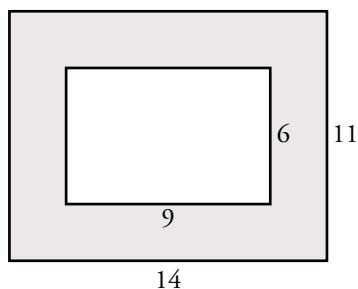
a) No. La razón entre los catetos es $\frac{2}{3}$ en el interior y $\frac{5}{7}$ en el exterior.

b) $2 \cdot 2,5 = 5$

$3 \cdot 2,5 = 7,5$

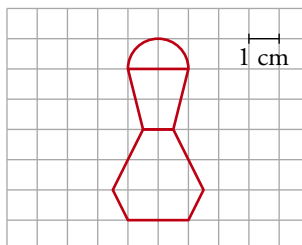
Los catetos medirán 5 y 7,5 unidades.

3 ■■■ Una fotografía de 9 cm de ancho y 6 cm de alto tiene alrededor un marco de 2,5 cm de ancho. ¿Son semejantes los rectángulos interior y exterior del marco? Responde razonadamente.

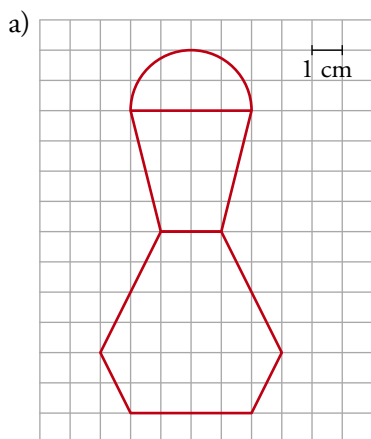


$$\frac{14}{9} \neq \frac{11}{6} \rightarrow \text{No son semejantes.}$$

- 4 ■■■ Un joyero quiere reproducir un broche como el de la figura duplicando su tamaño.



- a) Haz un dibujo de la figura ampliada.
b) Calcula su superficie.



- b) • El área de las dos partes inferiores se puede hallar sin más que contar cuadraditos:

$$26 + 12 = 38 \text{ cm}^2$$

- La parte de arriba es medio círculo de radio 2. Por tanto, su superficie es:

$$\frac{1}{2} (\pi \cdot r^2) = \frac{1}{2} \cdot \pi \cdot 2^2 = 2\pi \text{ cm}^2$$

- La superficie total de la figura es:

$$S = (38 + 2\pi) \text{ cm}^2$$

- 5 ■■■ Un rombo cuyas diagonales miden 275 cm y 150 cm, ¿qué área ocupará en un plano de escala 1:25?

$$\text{Área} = \frac{275 \cdot 150}{2} = 20\,625 \text{ cm}^2$$

$$\text{En el plano ocupará } \frac{20\,625}{25^2} = 33 \text{ cm}^2.$$

- 6 ■■■ Una maqueta está hecha a escala 1:250. Calcula:

- a) Las dimensiones de una torre cilíndrica que en la maqueta mide 6 cm de altura y 4 cm de diámetro.
b) La superficie de un jardín que en la maqueta ocupa 40 cm².
c) El volumen de una piscina que en la maqueta contiene 20 cm³ de agua.

11 Soluciones a los ejercicios y problemas

$$\left. \begin{array}{l} \text{a) } 1 \text{ cm} \rightarrow 250 \text{ cm} \\ \quad 6 \text{ cm} \rightarrow h \\ \quad 4 \text{ cm} \rightarrow d \end{array} \right\} \begin{array}{l} h = 1\,500 \text{ cm} = 15 \text{ m} \\ d = 1\,000 \text{ cm} = 10 \text{ m} \end{array}$$

La torre cilíndrica mide 15 m de altura y 10 m de diámetro.

b) $40 \cdot 250^2 = 2\,500\,000 \text{ cm}^2 = 250 \text{ m}^2$

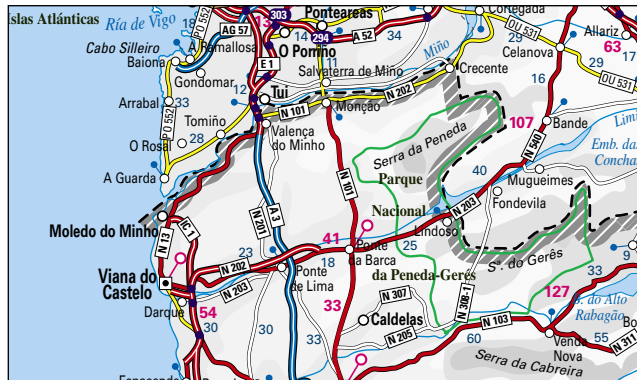
c) $20 \cdot 250^3 = 312\,500\,000 \text{ cm}^3 = 312,5 \text{ m}^3$

7 ■■■ En este mapa de escala 1:1 500 000, la distancia entre Monção y Ponte da Barca es 2 cm.

a) ¿Cuál es la distancia real?

b) Calcula la distancia entre Viana do Castelo y Valença do Minho.

c) ¿Qué distancia habrá en el plano entre dos ciudades que distan 180 km?



a) Distancia real = $2 \cdot 1\,500\,000 = 3\,000\,000 \text{ cm} = 30 \text{ km}$

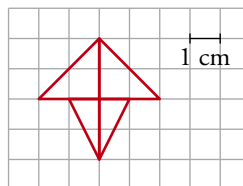
b) En el mapa, midiendo, vemos que la distancia entre las dos localidades mencionadas es 2,5 cm. Por tanto:

$$\text{Distancia real} = 2,5 \cdot 1\,500\,000 = 3\,750\,000 \text{ cm} = 37,5 \text{ km}$$

c) $180 \text{ km} = 18\,000\,000 \text{ cm}$

$$\text{Distancia en el mapa} = \frac{18\,000\,000}{1\,500\,000} = 12 \text{ cm}$$

8 ■■■ Esta figura es el logotipo de una empresa automovilística. Quieren reproducirlo de forma que ocupe 54 cm^2 de superficie. ¿Cuáles serán sus dimensiones? Dibújalo.

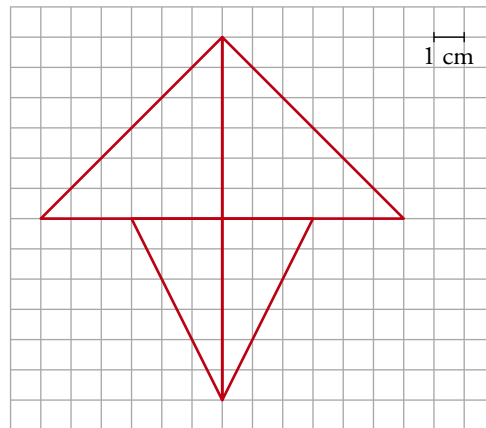


La superficie del logotipo es, siempre, de 6 cuadraditos (consideramos que al hacer la ampliación, también se amplían en la misma proporción los cuadraditos).

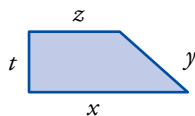
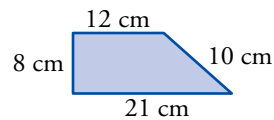
Necesitamos que la superficie de 6 cuadraditos de lado l sea 54 cm^2 . Por tanto:

$$6l^2 = 54 \rightarrow l^2 = 9 \rightarrow l = 3 \text{ cm}$$

Esto es, tenemos que hacer una ampliación en la que 1 cm se convierte en 3 cm. Luego las dimensiones de la figura serán:



- 9** ■■■ ¿Cuánto medirán los lados de un trapecio semejante al de la figura, cuyo perímetro sea $163,2 \text{ cm}$?



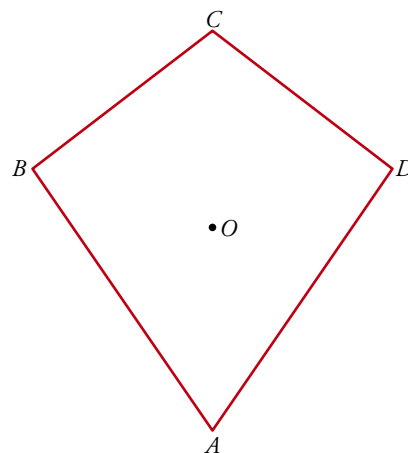
El perímetro de la figura inicial mide $21 + 10 + 12 + 8 = 51 \text{ cm}$.

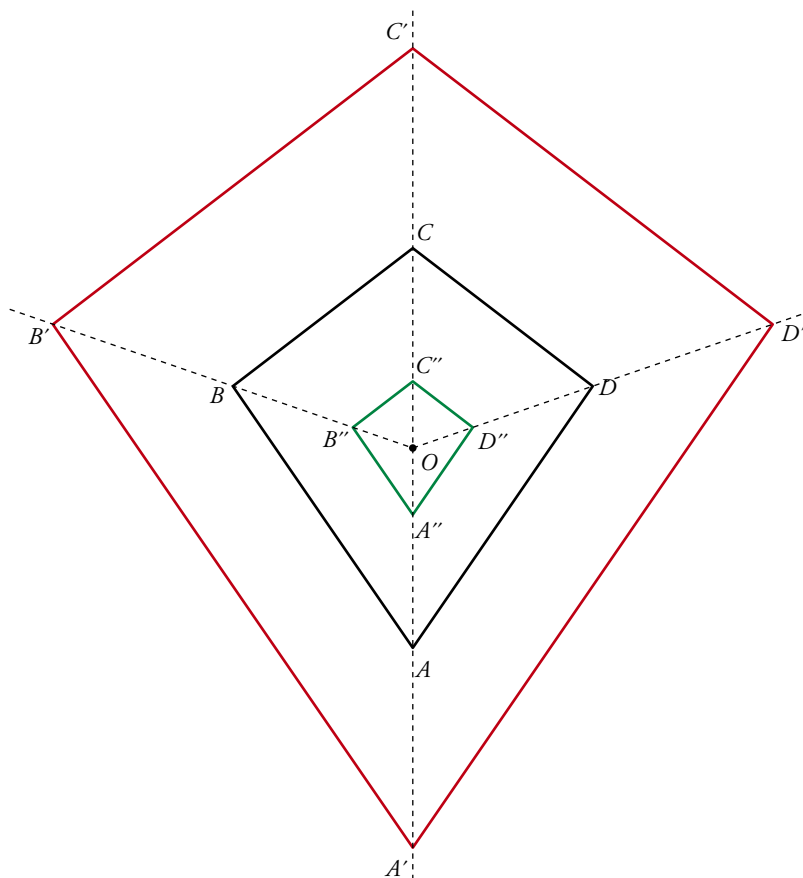
Por tanto: $\frac{163,2}{51} = \frac{x}{21} = \frac{y}{10} = \frac{z}{12} = \frac{t}{8}$

$x = 67,2 \text{ cm}; y = 32 \text{ cm}; z = 38,4 \text{ cm}; t = 25,6 \text{ cm}$

- 10** ■■■ a) Copia esta figura en tu cuaderno y amplíala al doble tomando O como centro de homotecia.

- b) Redúcela a $1/3$ tomando A como centro de homotecia.





PÁGINA 181

Semejanza de triángulos

11 Comprueba si son semejantes dos triángulos ABC y $A'B'C'$ que cumplan las condiciones siguientes:

a) $\overline{AB} = 10$; $\overline{BC} = 18$; $\overline{CA} = 12$

$\overline{A'B'} = 25$; $\overline{B'C'} = 45$; $\overline{C'A'} = 30$

b) $\overline{AB} = 20$; $\overline{BC} = 30$; $\overline{CA} = 40$

$\overline{A'B'} = 40$; $\overline{B'C'} = 50$; $\overline{C'A'} = 60$

c) $\hat{A} = 58^\circ$; $\hat{B} = 97^\circ$

$\hat{A}' = 58^\circ$; $\hat{C}' = 35^\circ$

a) Comprobamos si los lados son proporcionales. Esto es, si:

$$\frac{\overline{AB}}{\overline{A'B'}} = \frac{\overline{BC}}{\overline{B'C'}} = \frac{\overline{CA}}{\overline{C'A'}} \rightarrow \frac{10}{25} = \frac{18}{45} = \frac{12}{30} = 2,5$$

Sí son semejantes.

11 Soluciones a los ejercicios y problemas

b) Procediendo como en el apartado anterior, es claro que no son semejantes:

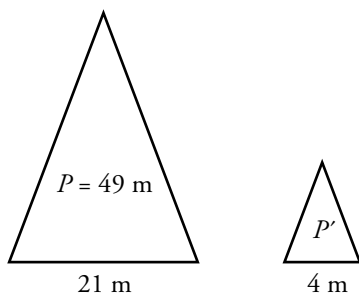
$$\frac{20}{40} \neq \frac{30}{50} \neq \frac{40}{60}$$

c) Comprobamos si los dos triángulos tienen sus ángulos iguales:

$$\hat{A} = 58^\circ; \hat{B} = 97^\circ \rightarrow \hat{C} = 180^\circ - 58^\circ - 97^\circ = 25^\circ$$

Como $\hat{C} \neq \hat{C}'$, los triángulos no son semejantes.

- 12** ■■■ El perímetro de un triángulo isósceles es 49 m y su base mide 21 m. Halla el perímetro de otro triángulo semejante, cuya base mide 4 m. ¿Cuál es la razón de semejanza entre el triángulo mayor y el menor?



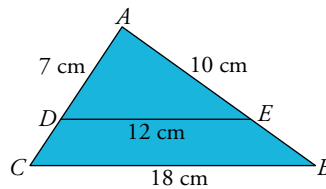
$$\frac{21}{4} = 5,25$$

Perímetro del triángulo semejante:

$$P' = \frac{49}{5,25} = 9,33 \text{ m}$$

La razón de semejanza es 5,25.

- 13** ■■■ En el triángulo ABC hemos trazado \overline{DE} paralelo a \overline{CB} .



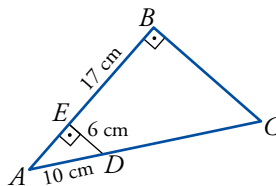
¿Por qué son semejantes los triángulos ABC y ADE ? Calcula \overline{AC} y \overline{AB} .

Los triángulos son semejantes porque están en posición de Tales.

$$\frac{\overline{AC}}{\overline{CB}} = \frac{\overline{AD}}{\overline{DE}} \rightarrow \overline{AC} = \frac{7 \cdot 18}{12} = 10,5 \text{ cm}$$

$$\frac{\overline{AB}}{\overline{CB}} = \frac{\overline{AE}}{\overline{DE}} \rightarrow \overline{AB} = \frac{10 \cdot 18}{12} = 15 \text{ cm}$$

- 14** ■■■ ¿Por qué son semejantes los triángulos ABC y AED ?



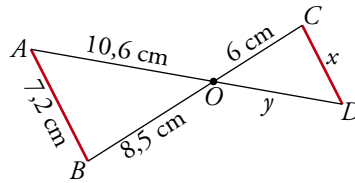
Halla el perímetro del trapecio $EBCD$.

Porque son rectángulos con un ángulo agudo común, \hat{A} . Tienen los tres ángulos iguales.

11 Soluciones a los ejercicios y problemas

- Hallamos \overline{EA} aplicando el teorema de Pitágoras:
 $\overline{EA} = \sqrt{10^2 - 6^2} = 8 \text{ cm}$; $\overline{AB} = 8 + 17 = 25 \text{ cm}$
- $\frac{\overline{AC}}{\overline{AD}} = \frac{\overline{AB}}{\overline{EA}} \rightarrow \frac{10 + x}{10} = \frac{25}{8} \rightarrow 80 + 8x = 250 \rightarrow 8x = 170$
 $x = 21,25 \rightarrow \overline{DC} = 21,25 \text{ cm}$
- $\frac{\overline{BC}}{\overline{ED}} = \frac{\overline{AB}}{\overline{AE}} \rightarrow \frac{\overline{BC}}{6} = \frac{25}{8} \rightarrow \overline{BC} = \frac{150}{8} = 18,75 \text{ cm}$
- Perímetro de $EBCD = 17 + 18,75 + 21,25 + 6 = 63 \text{ cm}$

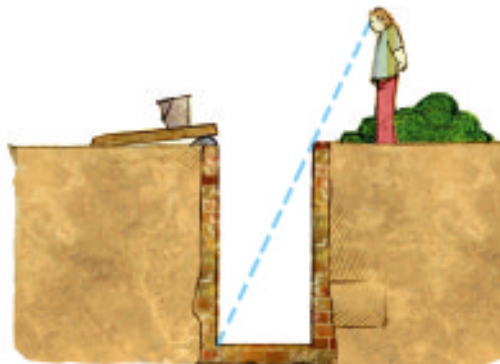
15 ■■■ Observa esta figura, en la que el segmento AB es paralelo a CD .

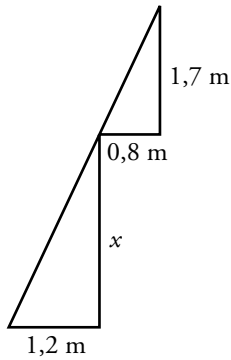


- Di por qué son semejantes los triángulos OAB y ODC .
 - Calcula x e y .
- Son semejantes porque tienen un ángulo igual, $\widehat{AOB} = \widehat{COD}$ por ser opuestos por el vértice, y los lados opuestos a ese ángulo son paralelos.
 - $\frac{x}{7,2} = \frac{6}{8,5} \rightarrow x = \frac{7,2 \cdot 6}{8,5} \approx 5,08 \text{ cm}$
 $\frac{6}{8,5} = \frac{y}{10,6} \rightarrow y = \frac{10,6 \cdot 6}{8,5} \approx 7,48 \text{ cm}$

PIENSA Y RESUELVE

16 ■■■ ¿Cuál es la profundidad de un pozo, si su anchura es 1,2 m y alejándote 0,8 m del borde, desde una altura de 1,7 m, ves que la visual une el borde del pozo con la línea del fondo?

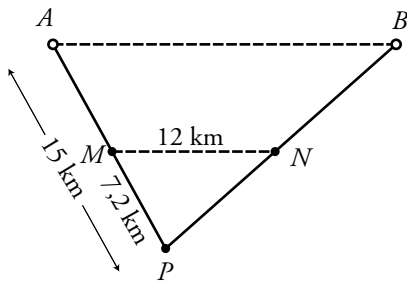
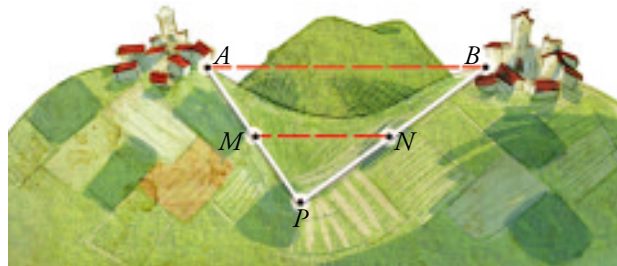




$$\frac{x}{1,7} = \frac{1,2}{0,8} \rightarrow x = \frac{1,2 \cdot 1,7}{0,8} \rightarrow x = 2,55 \text{ m}$$

La profundidad es de 2,55 m.

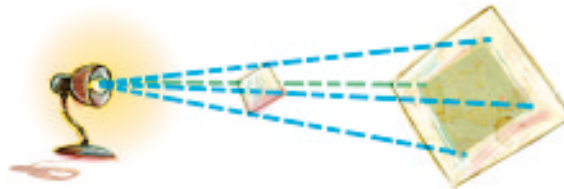
- 17** Entre dos pueblos A y B hay una colina. Para medir la distancia AB , fijamos un punto P desde el que se ven los dos pueblos y tomamos las medidas: $\overline{AP} = 15 \text{ km}$, $\overline{PM} = 7,2 \text{ km}$ y $\overline{MN} = 12 \text{ km}$. (MN es paralela a AB). Calcula la distancia \overline{AB} .



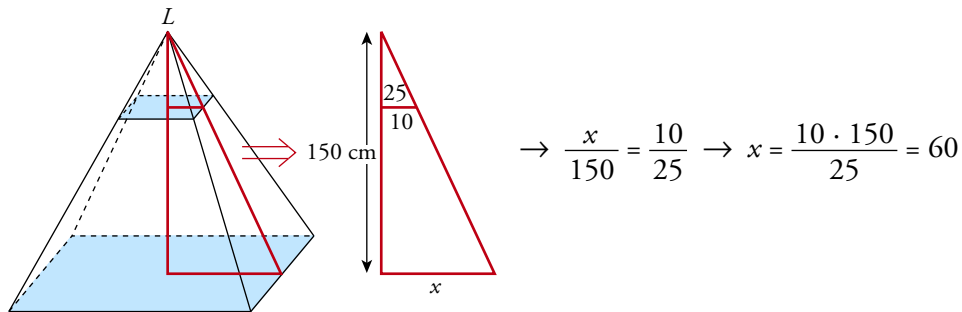
Los triángulos APB y MPN son semejantes. Por tanto:

$$\frac{\overline{AB}}{12} = \frac{15}{7,2} \rightarrow \overline{AB} = \frac{15 \cdot 12}{7,2} = 25 \text{ km}$$

- 18** Una lámpara situada a 25 cm de una lámina cuadrada de 20 cm de lado, proyecta una sombra sobre una pantalla paralela que está a 1,5 m de la lámpara.

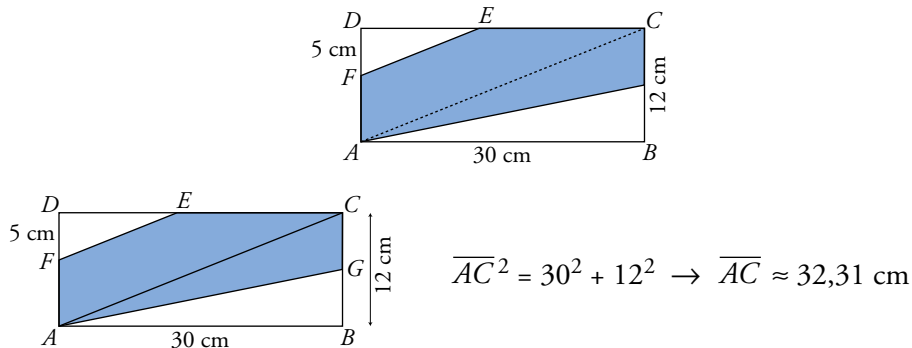


¿Cuánto mide el lado del cuadrado proyectado?



Por tanto, el lado del cuadrado proyectado mide $2 \cdot 60 = 120$ cm.

19 ■■■ Si $\overline{DF} = 5$ cm, ¿cuál es el área y el perímetro del pentágono *FECGA*?



Los triángulos *FDE* y *ADC* son semejantes. Por ello:

$$\frac{\overline{DF}}{\overline{DA}} = \frac{\overline{FE}}{\overline{AC}} \rightarrow \frac{5}{12} = \frac{\overline{FE}}{32,31} \rightarrow \overline{FE} \approx 13,46 \text{ cm}$$

En el triángulo *FDE*, $\overline{DE}^2 = \overline{FE}^2 - \overline{DF}^2 = 13,46^2 - 5^2 \rightarrow \overline{DE} \approx 12,5$ cm

$$\overline{EC} = \overline{DC} - \overline{DE} = 30 - 12,5 = 17,5 \text{ cm}$$

$$\overline{CG} = 6 \text{ cm}$$

$$\overline{AG}^2 = 30^2 + 6^2 \rightarrow \overline{AG} \approx 30,59 \text{ cm}$$

$$\overline{AF} = 7 \text{ cm}$$

$$\text{Área del triángulo } FDE = \frac{12,5 \cdot 5}{2} = 31,25 \text{ cm}^2$$

$$\text{Área del triángulo } ABG = \frac{30 \cdot 6}{2} = 90 \text{ cm}^2$$

$$\text{Área del pentágono} \approx 30 \cdot 12 - 31,25 - 90 = 238,75 \text{ cm}^2$$

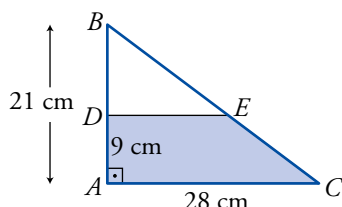
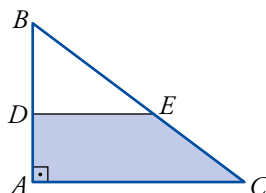
Perímetro del pentágono:

$$\overline{FE} + \overline{EC} + \overline{CG} + \overline{GA} + \overline{AF} \approx 13,46 + 17,5 + 6 + 30,59 + 7 = 74,55 \text{ cm}$$

PÁGINA 182

- 20** Los catetos del triángulo rectángulo ABC miden $\overline{AC} = 28$ cm y $\overline{AB} = 21$ cm.

Desde el punto D tal que $\overline{AD} = 9$ cm, se traza una paralela a AC . Halla el área y el perímetro del trapecio $ADEC$.



Los triángulos ABC y DBE son semejantes.

Por ello:

$$\frac{\overline{AB}}{\overline{BD}} = \frac{\overline{AC}}{\overline{DE}} \rightarrow \frac{21}{12} = \frac{28}{\overline{DE}} \rightarrow \overline{DE} = \frac{12 \cdot 28}{21} = 16 \text{ cm}$$

Calculamos la hipotenusa de cada uno de los triángulos:

$$\left. \begin{array}{l} \overline{BC} = \sqrt{21^2 + 28^2} = 35 \text{ cm} \\ \overline{BE} = \sqrt{12^2 + 16^2} = 20 \text{ cm} \end{array} \right\} \overline{EC} = 35 - 20 = 15 \text{ cm}$$

$$\text{Área del trapecio} = \frac{28 + 16}{2} \cdot 9 = 198 \text{ cm}^2$$

$$\text{Perímetro del trapecio } ADEC = 9 + 16 + 15 + 28 = 68 \text{ cm}$$

- 21** En una carretera de montaña, nos encontramos una señal que nos advierte que la pendiente es del 8%; es decir, por cada 100 m que recorremos, el desnivel es de 8 m.



a) ¿Cuál es el desnivel que se produce cuando recorremos 3 km?

b) Para que el desnivel sea de 500 m, ¿cuántos kilómetros tendremos que recorrer?

a)

$$\rightarrow \frac{x}{3000} = \frac{8}{100} \rightarrow$$

$$\rightarrow x = \frac{8 \cdot 3000}{100} = 240 \text{ m}$$

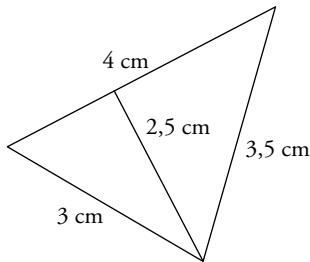
Se produce un desnivel de 240 m.

b)


$$\rightarrow \frac{x}{500} = \frac{100}{8} \rightarrow x = \frac{100 \cdot 500}{8} = 6250 \text{ m}$$

Tendremos que recorrer 6,25 km.

- 22** ■■■ Esta figura representa, a escala 1:2 000, una parcela de terreno. Calcula su perímetro y su área, tomando las medidas necesarias.



PLANO	REALIDAD
3 cm	$\rightarrow 3 \cdot 2\,000 = 6\,000 \text{ cm} = 60 \text{ m}$
3,5 cm	$\rightarrow 3,5 \cdot 2\,000 = 7\,000 \text{ cm} = 70 \text{ m}$
4 cm	$\rightarrow 4 \cdot 2\,000 = 8\,000 \text{ cm} = 80 \text{ m}$
2,5 cm	$\rightarrow 2,5 \cdot 2\,000 = 5\,000 \text{ cm} = 50 \text{ m}$



$$P = 60 + 70 + 80 = 210 \text{ m}$$

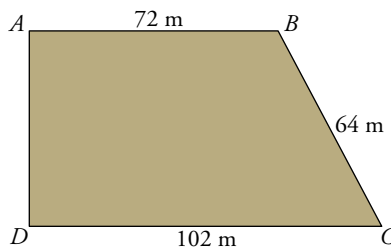
$$S = \frac{1}{2}(80 \cdot 50) = 2\,000 \text{ m}^2$$

- 23** ■■■ Los lados mayores de dos triángulos semejantes miden 8 cm y 13,6 cm, respectivamente. Si el área del menor es 26 cm², ¿cuál es el área del mayor?

$$\text{Razón de semejanza} = \frac{13,6}{8} = 1,7$$

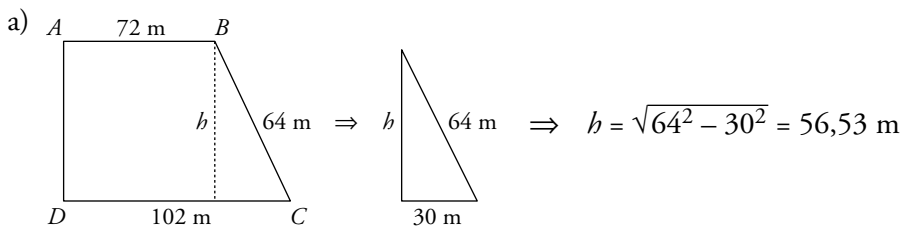
$$\text{Área del segundo} = 26 \cdot 1,7^2 = 75,14 \text{ cm}^2$$

- 24** ■■■ Una parcela tiene forma de trapecio rectángulo con las dimensiones que se ven en la figura.



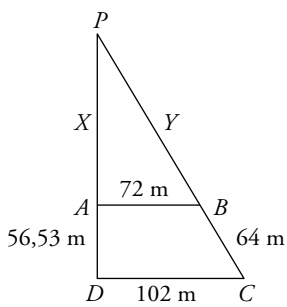
a) Calcula su área.

- b) Se quiere hacer un pozo en el punto donde se cortan las prolongaciones de los lados AD y BC. ¿A qué distancia de A y de B estará el pozo?



$$A = \frac{(72 + 102) \cdot 56,33}{2} = 4\,918,11 \text{ m}^2$$

b)



$$\frac{x}{72} = \frac{x + 56,53}{102} \rightarrow 102x = 72x + 4070,16 \rightarrow$$

$$\rightarrow x = \frac{4070,16}{30} = 135,67 \text{ m}$$

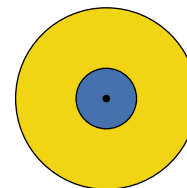
$$\frac{y}{72} = \frac{y + 64}{102} \rightarrow 102y = 72y + 4608 \rightarrow$$

$$\rightarrow y = \frac{4608}{30} = 153,6 \text{ m}$$

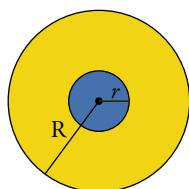
El pozo estará a 135,67 m de A y a 153,6 m de B .

25 ■■■ En estos dos círculos concéntricos, el radio del mayor es el triple del menor.

- a) Si el área del mayor es 951 cm^2 , ¿cuál es el área del menor?
 b) Calcula el radio de cada círculo.



a) $R = 3r$



Si los radios están en proporción de 3 a 1, las áreas lo están en proporción $3^2 = 9$ a 1.

Por tanto, el área del menor es $951 : 9 = 105,67 \text{ cm}^2$.

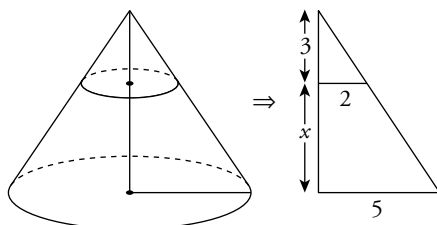
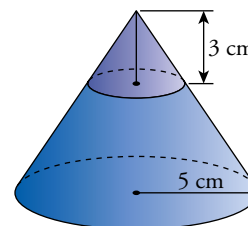
$$b) \pi R^2 = 951 \rightarrow R = \sqrt{\frac{951}{\pi}} = 17,4 \text{ cm}$$

$$r = \frac{R}{3} = \frac{17,4}{3} = 5,8 \text{ m}$$

26 ■■■ Para hacer un embudo de boca ancha, hemos cortado un cono de 5 cm de radio a 3 cm del vértice.

La circunferencia obtenida tiene 2 cm de radio.

Halla el volumen del embudo.



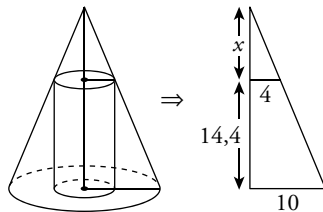
$$\frac{3+x}{5} = \frac{3}{2} \rightarrow 3+x = \frac{15}{2} \rightarrow$$

$$\rightarrow x = \frac{15}{2} - 3 = 4,5 \text{ cm}$$

El volumen del embudo será la diferencia entre el volumen de un cono de 5 cm de radio y 7,5 cm de altura, y el volumen de otro cono de 2 cm de radio y 3 cm de altura.

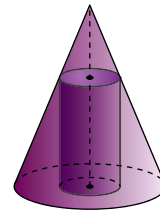
$$V = \frac{1}{3} (\pi \cdot 5^2 \cdot 7,5) - \frac{1}{3} (\pi \cdot 2^2 \cdot 3) = \frac{1}{3} \pi (25 \cdot 7,5 - 4 \cdot 3) = 58,5\pi \text{ cm}^3$$

- 27** ■■■ Hemos recubierto con un tejado cónico un depósito cilíndrico de 4 m de radio y 14,4 m de altura. Si el radio del cono es 10 m, ¿cuál es el volumen de la zona comprendida entre el cono y el cilindro?



$$\rightarrow \frac{x}{4} = \frac{x + 14,4}{10} \rightarrow 10x = 4x + 57,6 \rightarrow$$

$$\rightarrow x = \frac{57,6}{6} = 9,6 \text{ m}$$

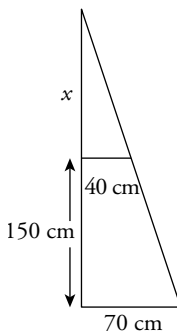
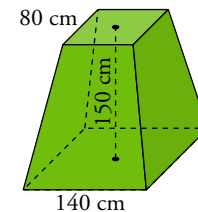


$$V_{\text{CONO}} = \frac{1}{3} (\pi \cdot 10^2) \cdot (14,4 + 9,6) = 800\pi \text{ m}^3$$

$$V_{\text{CILINDRO}} = (\pi \cdot 4^2) \cdot 14,4 = 230,4\pi \text{ m}^3$$

$$V = V_{\text{CONO}} - V_{\text{CILINDRO}} = 800\pi - 230,4\pi = 569,6\pi \text{ m}^3$$

- 28** ■■■ La base de una escultura tiene forma de tronco de pirámide cuadrangular regular en el que los lados de las bases miden 80 cm y 140 cm, y su altura, 150 cm. Halla su volumen.



Calculamos la altura de la pirámide:

$$\frac{x + 150}{x} = \frac{70}{40} \rightarrow 40x + 6000 = 70x \rightarrow 30x = 6000 \rightarrow$$

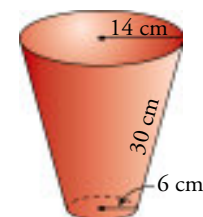
$$\rightarrow x = 200 \text{ cm}$$

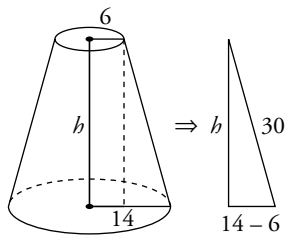
$$\text{Altura} = 200 + 150 = 350 \text{ cm}$$

$$\text{Volumen tronco} = V_{\text{PIRÁMIDE MAYOR}} - V_{\text{PIRÁMIDE MENOR}}$$

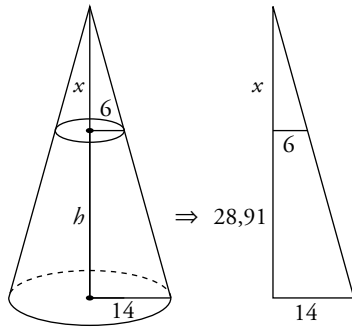
$$V = \frac{1}{3} 140^2 \cdot 350 - \frac{1}{3} 8^2 \cdot 200 = 1\,860\,000 \text{ cm}^3 = 1\,860 \text{ dm}^3$$

- 29** ■■■ Halla el volumen de una maceta como la de la figura, en la que los radios de las bases miden 6 cm y 14 cm, y la generatriz, 30 cm.





$$b = \sqrt{30^2 - 8^2} = 28,91 \text{ cm}$$



$$\frac{x}{6} = \frac{x + 28,91}{14} \rightarrow 14x = 6x + 173,46 \rightarrow$$

$$\rightarrow x = \frac{173,46}{8} = 21,68 \text{ m}$$

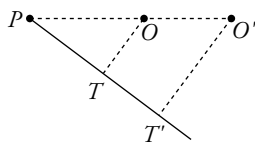
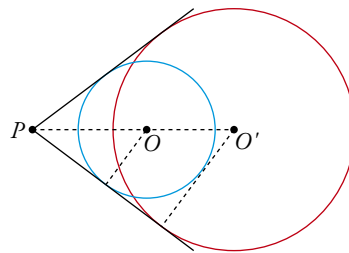
$$V_{\text{CONO GRANDE}} = \frac{1}{3} (\pi \cdot 14^2) \cdot (28,91 + 21,68) = 3\,305,21\pi \text{ cm}^3$$

$$V_{\text{CONO PEQUEÑO}} = \frac{1}{3} (\pi \cdot 6^2) \cdot (21,68) = 260,16\pi \text{ cm}^3$$

$$V_{\text{MACETA}} = V_{\text{CONO GRANDE}} - V_{\text{CONO PEQUEÑO}} = (3\,305,21 - 260,16) \pi = 3\,045,05\pi \text{ cm}^3$$

La maceta tiene un volumen de $9\,561,46 \text{ cm}^3$.

- 30** ■■■ Desde un punto P , trazamos las tangentes comunes a dos circunferencias. Las distancias de P a los centros son $\overline{PO} = 17 \text{ cm}$ y $\overline{PO'} = 30 \text{ cm}$. Si el radio de la mayor mide 18 cm , ¿cuánto mide el radio de la menor?



$$\frac{\overline{OT}}{\overline{PO}} = \frac{\overline{O'T'}}{\overline{PO'}} \rightarrow \frac{\overline{OT}}{17} = \frac{18}{30} \rightarrow$$

$$\rightarrow \overline{OT} = \frac{18 \cdot 17}{30} = 10,2 \text{ cm}$$

El radio de la menor mide $10,2 \text{ cm}$.